

3. ročník 1. časti 2.úloha

Milí žiaci!

Nadalej platí, že si každý týždeň **prídete prevziať pracovné listy najlepšie v čase Hudobnej náuky ku mne. Vypracované úlohy mi donesiete ukázať o týždeň.** Ak by niekto z vás bol v karanténe, alebo nevie prísť osobne, nájdete úlohy pre vás na internete [zusroznava.edupage.org](https://www.zusroznava.edupage.org) . V takom prípade treba vypracované zadania odfotiť a poslať na smijakhudba@gmail.com – nezabudnite mail označiť menom žiaka, ročník a číslo úlohy. Napríklad: Janko Hraško, 1roč. 2. časti 2. úloha

Majte sa pekne a do skorého videnia. Ondrej Šmiják

Vypočujte si, ako dokázal Antonín Dvořák vyjadriť túžbu po domove v skladbe Largo, ktorá je časťou jeho IX. Symfónie. Môžete si predstaviť, že sa plavíte na veľkej lodi do Ameriky a že vás víta pohľad na mrakodrapy a Sochu Slobody.



https://www.youtube.com/watch?v=-AL-tr_qz28

Zapíšte si do zošita meno skladateľa, krajinu, z ktorej pochádza, skladbu a odpíšte si text o anglickom rohu, ktorý tu hrá sólo.

Český hudobný skladateľ ANTONÍN DVOŘÁK, keď bol v dalekej cudzine, zatúžil po domove. Svoju túžbu vyjadril hudbou. Zvolil si hudobný nástroj, ktorým najlepšie vedel prejavíť svoje city. Bol to anglický roh. Vypočujte si úryvok z 2. časti Dvořákovej 9. SYMFÓNIE E MOL, v ktorej melódia i farba zvuku hudobného nástroja vyjadruje skladateľovu túžbu po domove.

Largo (úryvok)

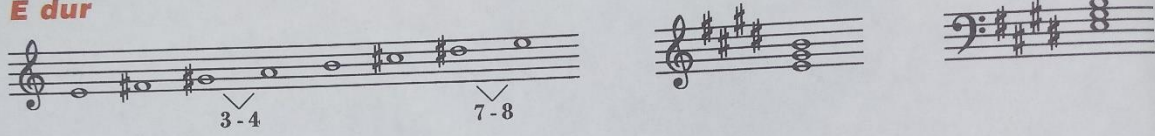
Antonín Dvořák



Anglický roh – drevený dychový hudobný nástroj, ktorý často hrá v symfonickom orchestri, ale aj sólovo. Má mäkké, tmavšie zafarbenie tónu.

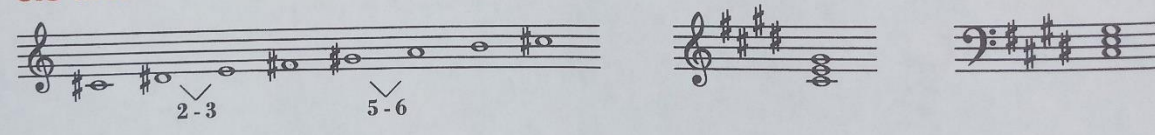
3. ročník 1. časti 2.úloha

E dur





* Doma si napíšete pieseň v basovom kľúči. Začnite notou malé h.
Paralelnú molovú stupnicu si vytvoríte od VI. stupňa durovej. Bude to stupnica cis mol.

cis mol





Odpíšte si do zošita tieto dve stupnice a pomenujte každú notu – e1,

Napíš štvrt'ové noty



fes1 des2 as1 b1 ces2 des1 ces1 ges1



gis1 cis2 dis1 his1 eis1 ais1 dis2 eis2

Napíš stupnicu A dur a kvintakord

